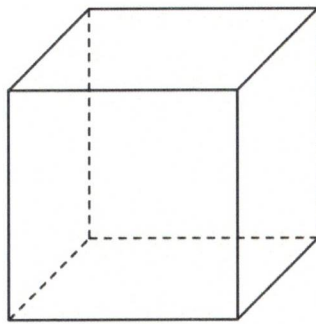


SOLIDE N°1



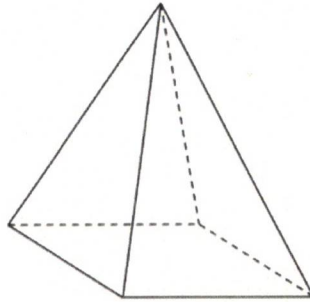
Nombre de sommets : 8.....

Nombre d'arêtes : 12.....

Nombre de faces : 6.....

~~Une pyramide~~ ou un cube ?

SOLIDE N°3



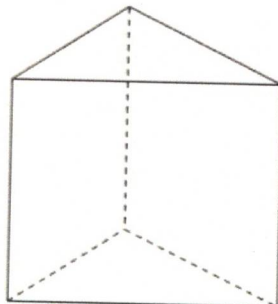
Nombre de sommets : 4.....

Nombre d'arêtes : 8.....

Nombre de faces : 5.....

~~Un pavé droit~~ ou une pyramide ?

SOLIDE N°4



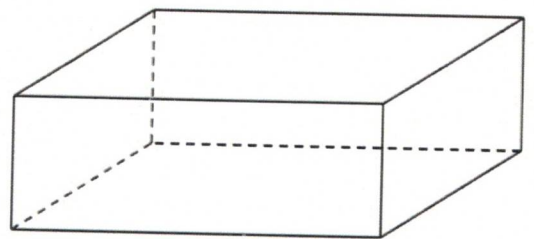
Nombre de sommets : 6.....

Nombre d'arêtes : 9.....

Nombre de faces : 5.....

Un prisme ou ~~une pyramide~~ ?

SOLIDE N°2



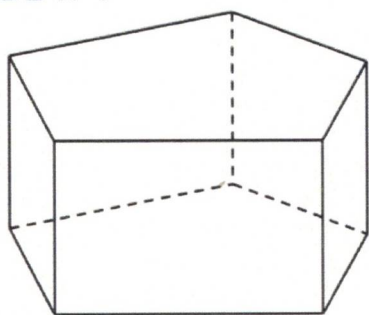
Nombre de sommets : 8.....

Nombre d'arêtes : 12.....

Nombre de faces : 6.....

Un pavé droit ou ~~un cylindre~~ ?

SOLIDE N°7




Nombre de sommets : ..10..

Nombre d'arêtes : ..15..

Nombre de faces : ..7..

Un prisme ou une ~~pyramide~~ ?

SOLIDE N°5



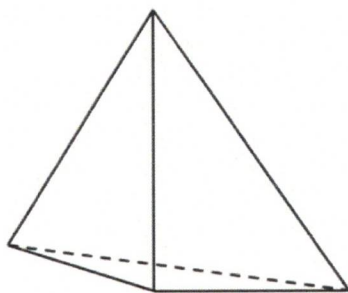
Nombre de sommets : .......

Nombre d'arêtes : .......

Nombre de faces : ..3.. (dont une face courbe)

Un ~~pavé droit~~ ou un cylindre de révolution ?

SOLIDE N°8



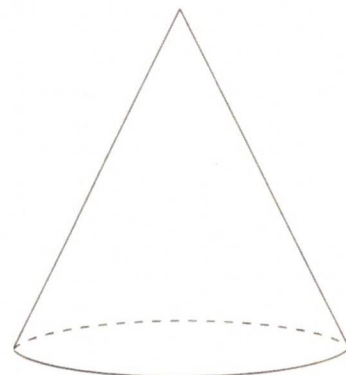
Nombre de sommets : ..4..

Nombre d'arêtes : ..6..

Nombre de faces : ..4..

Un ~~prisme~~ ou une pyramide ?

SOLIDE N°6



Nombre de sommets : ..1..

Nombre d'arêtes : .......

Nombre de faces : ..2.. (dont une face courbe)

Un cône ou un ~~pavé droit~~ ?