
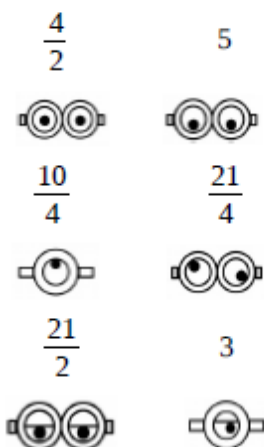


Minion addition et soustraction de fractions

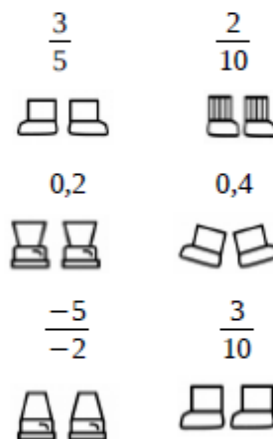
Complète le portrait ci-dessous en calculant les valeurs ci-contre :



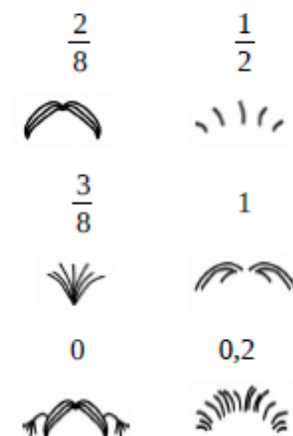
$$\frac{3}{2} + \frac{7}{2} \text{ est égal à ...}$$



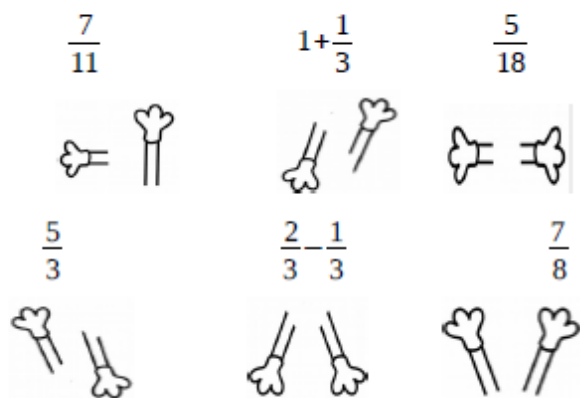
$$\frac{6}{5} - \frac{8}{10} \text{ est égal à ...}$$



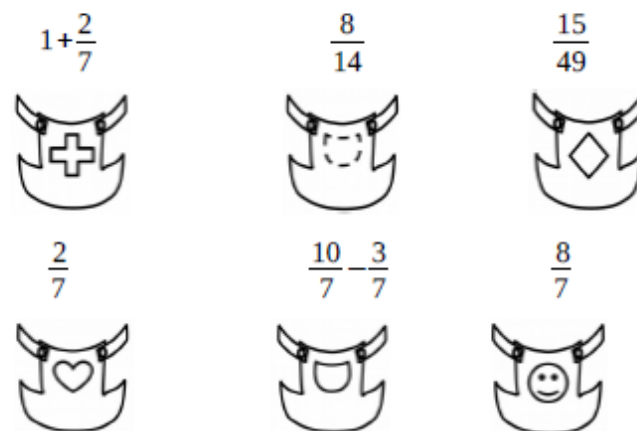
$$\frac{1}{2} - \frac{1}{8} \text{ est égal à ...}$$



$$\frac{1}{3} + \frac{5}{6} + \frac{1}{2} \text{ est égal à ...}$$



$$\frac{3}{7} + \frac{5}{7} \text{ est égal à ...}$$



$$\frac{3}{4} + \frac{5}{16} \text{ est égal à ...}$$

