

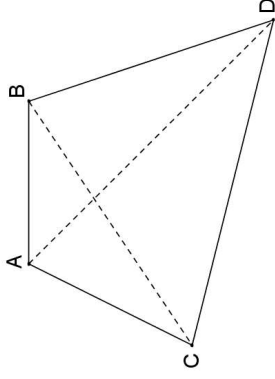
Questions flash

Vocabulaire de géométrie

.../.../...

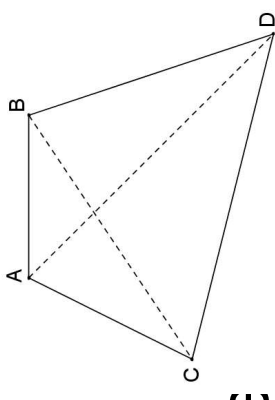
- 1)
- 2)
- 3)
- 4)
- 5)

Compléter les pointillés
(un mot manquant à trouver
pour chaque question).



N°1 :

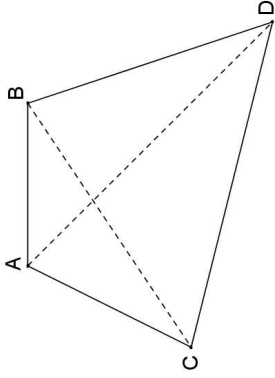
[AB] est un
..... du
quadrilatère
ABCD.



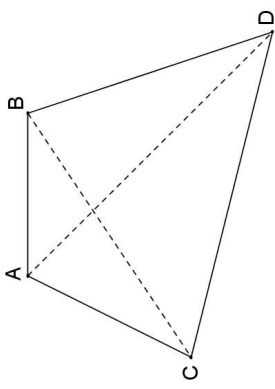
N°2 :

A et B sont de
..... du
quadrilatère
ABCD.

N°3 :



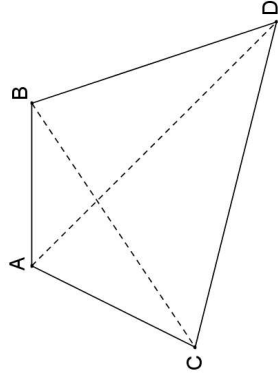
\widehat{ABD} est un
..... du
quadrilatère
ABCD.



N°4 :

[AD] et [BC]
sont les
..... du
quadrilatère
ABCD.

N°5 :



[AB] et [CD]
sont des
..... dans
le quadrilatère
ABCD.



FIN