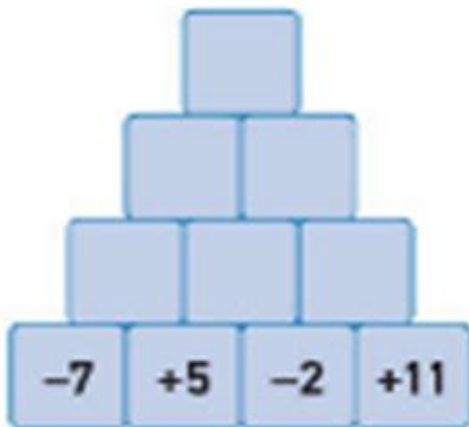


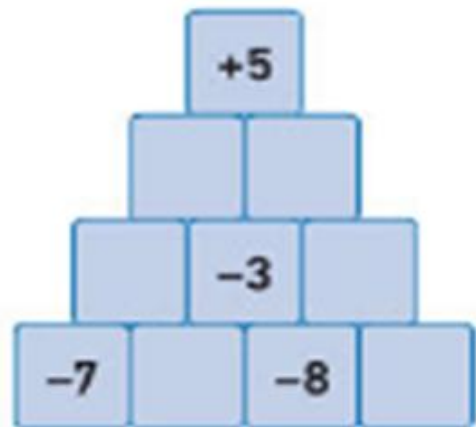
### Exercice des pyramides additives

Compléter les pyramides suivantes en sachant que le nombre qui se trouve dans une case est égal à la somme des nombres se trouvant dans les deux cases en dessous.

a.



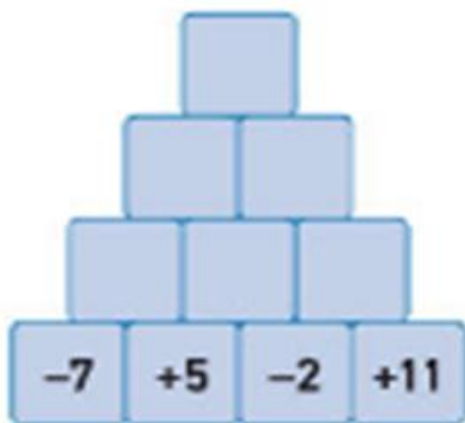
b.



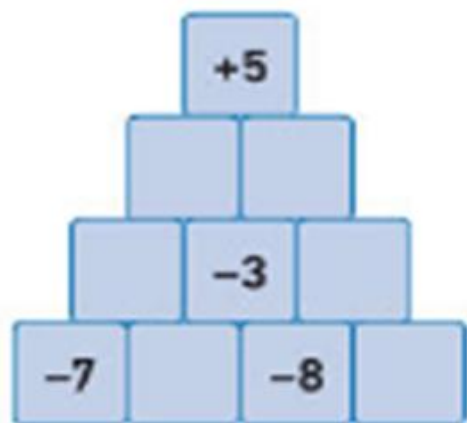
### Exercice des pyramides additives

Compléter les pyramides suivantes en sachant que le nombre qui se trouve dans une case est égal à la somme des nombres se trouvant dans les deux cases en dessous.

a.



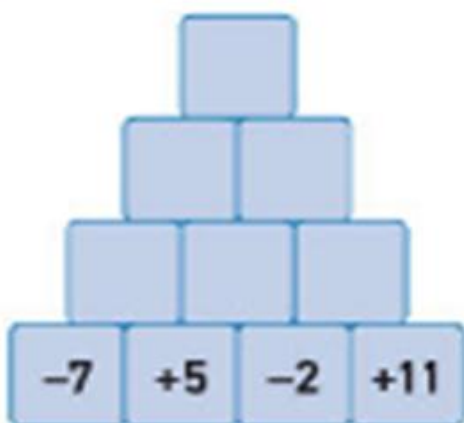
b.



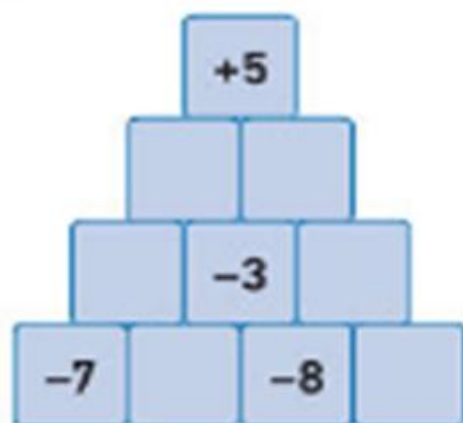
### Exercice des pyramides additives

Compléter les pyramides suivantes en sachant que le nombre qui se trouve dans une case est égal à la somme des nombres se trouvant dans les deux cases en dessous.

a.



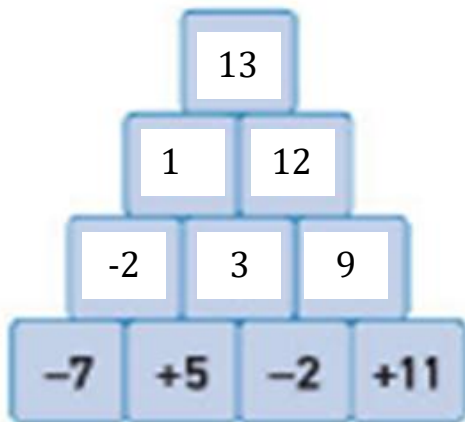
b.



**CORRECTION Exercice des pyramides additives**

Compléter les pyramides suivantes en sachant que le nombre qui se trouve dans une case est égal à la somme des nombres se trouvant dans les deux cases en dessous.

**a.**



**b.**

