

RECONNAÎTRE LES SOLIDES

Exercice 1 : Par quel solide peut-on **modéliser** chacun des monuments ou objets ci-dessous ?
Ecris ta réponse sous chaque image.



Exercice 2 : Voici trois publicités d'un célèbre site de location de maisons et d'appartements découvertes sur les réseaux sociaux.

Séjourner dans un carré



Séjourner dans un cercle




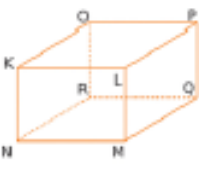



Séjourner dans un triangle



1. Qu'en penses-tu (d'un point de vue mathématique)?

2. Sous chaque photographie, reformuler le slogan de chaque publicité avec le vocabulaire qui convient ?

Exercice 3 : Compléter le tableau suivant

					
Nature du solide					
Nombre d'arêtes					
Nombre de sommets					
Nombre de faces					

 *Coup de pouce : Matériel disponible.*

Exercice 4 :



<https://learningapps.org/view3615935>



<https://learningapps.org/view2513540>