




## DES PATRONS DE PAVÉS DROITS

### Exercice 1 :

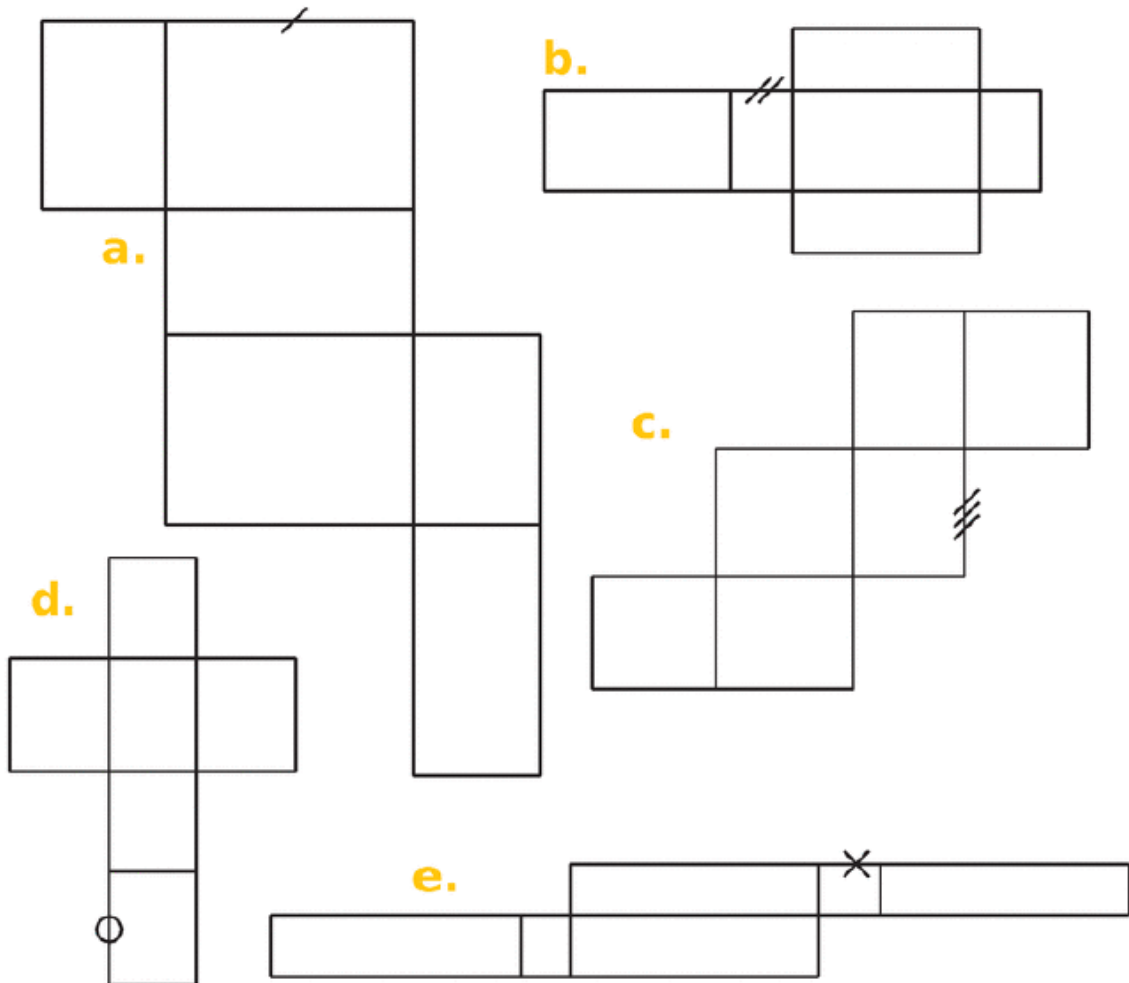
Niveau ★ :  <https://learningapps.org/view7860672>

Niveau ★★ :  <https://learningapps.org/view5325825>

Niveau ★★★ :  <https://learningapps.org/view918473>


### Exercice 2 :


Dans chaque patron de pavé droit, code tous les segments qui ont la même longueur que le segment déjà codé.




## DES PATRONS DE PAVÉS DROITS

### Exercice 1 :

Niveau ★ :  <https://learningapps.org/view7860672>

Niveau ★★ :  <https://learningapps.org/view5325825>

Niveau ★★★ :  <https://learningapps.org/view918473>

### Exercice 2 :

Dans chaque patron de pavé droit, code tous les segments qui ont la même longueur que le segment déjà codé.

