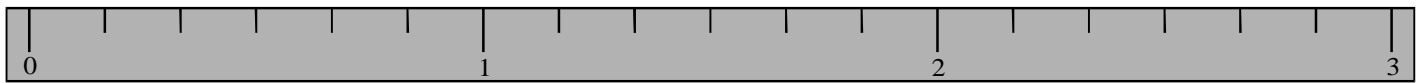
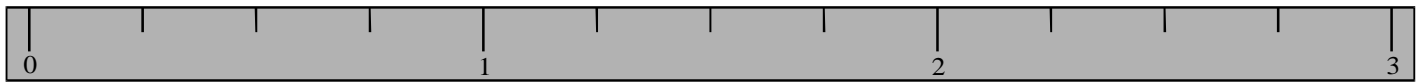
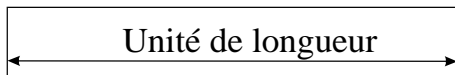
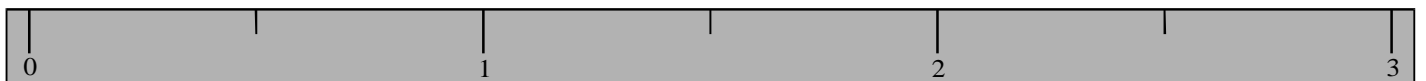
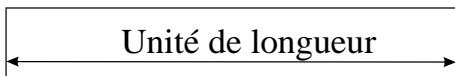


Règles graduées



Règles graduées



Exercice du dessin mystère

Pour découvrir le dessin mystère, place les points $A, B, C \dots$ selon les indications du tableau :

Point	A	B	C	D	E	F	G	H	I	J
Demi-droite	1	1	2	2	3	4	4	5	6	7
Abscisse	$\frac{11}{6}$	$\frac{13}{6}$	$\frac{5}{3}$	$\frac{6}{3}$	$\frac{1}{5}$	$\frac{1}{2}$	2,7	$\frac{2}{10}$	$\frac{7}{4}$	$\frac{8}{4}$

Par exemple, le point A est sur la demi-droite 1 et son abscisse est $\frac{11}{6}$.

(l'unité est toujours celle des règles graduées)

Puis, rejoins les points dans l'ordre suivant : $G - B - D - A - C - E - F - H - I - J$.

