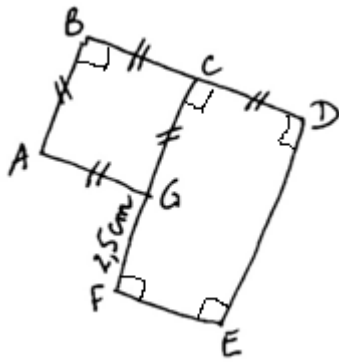


LE CROQUIS

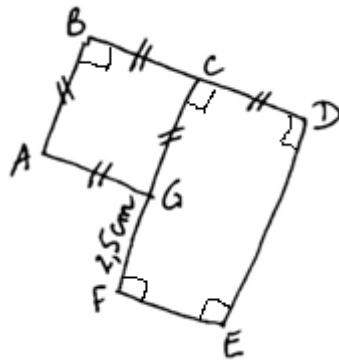


Voici un croquis à main levée pour réaliser une figure en géométrie.

Trace, sur ton cahier et "pas sur les lignes", un segment [AB] mesurant 4 cm.

Fais le dessin à partir du segment [AB] mesurant 4cm.

LE CROQUIS

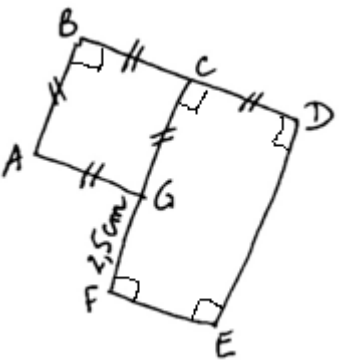


Voici un croquis à main levée pour réaliser une figure en géométrie.

Trace, sur ton cahier et "pas sur les lignes", un segment [AB] mesurant 4 cm.

Fais le dessin à partir du segment [AB] mesurant 4cm.

LE CROQUIS

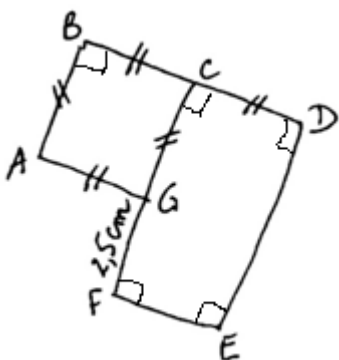


Voici un croquis à main levée pour réaliser une figure en géométrie.

Trace, sur ton cahier et "pas sur les lignes", un segment [AB] mesurant 4 cm.

Fais le dessin à partir du segment [AB] mesurant 4cm.

LE CROQUIS



Voici un croquis à main levée pour réaliser une figure en géométrie.

Trace, sur ton cahier et "pas sur les lignes", un segment [AB] mesurant 4 cm.

Fais le dessin à partir du segment [AB] mesurant 4cm.